

**Universidade de Pernambuco**  
**Escola Politécnica de Pernambuco**  
**12 de dezembro de 2014**  
**Física 1 - 2º Semestre 2014 – Exame Final**

Nome: \_\_\_\_\_

**ATENÇÃO:**

**Soluções sem os respectivos desenvolvimentos, claramente explicitados, NÃO SERÃO CONSIDERADAS. Todas as equações estão em unidades do Sistema Internacional de Unidades (SI).**

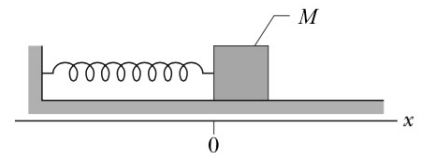
**Nos problemas de resolução numérica considere  $g = 10 \text{ m/s}^2$ .**

**01. (4,0 pontos)** A posição de uma partícula que se move em um eixo horizontal  $x$  sob a ação de uma única força é dada pela equação  $x(t) = 3,0t^2 - 2,0t^3$ , onde  $x$  é medido em metros e  $t$  em segundos. Se a massa da partícula é igual a  $2,0 \text{ kg}$ , calcule:

- a) (1,0) o módulo da velocidade da partícula em  $t = 2 \text{ s}$ ;
- b) (1,0) o instante de tempo em que a aceleração da partícula é nula;
- c) (1,0) o módulo da força que age sobre a partícula em  $t = 2 \text{ s}$ ;
- d) (1,0) o instante em que a partícula atinge sua maior posição no sentido positivo do eixo  $x$ .

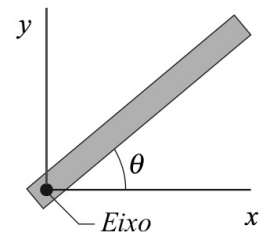
**02. (3,0 pontos)** O bloco da figura a seguir possui massa  $M$  e está preso a uma mola ideal de constante elástica  $k$ . A mola está inicialmente relaxada de maneira que o bloco ocupa a posição  $x = 0$ . Em  $t = 0$ , uma força de intensidade constante  $F$ , que aponta no sentido positivo do eixo  $x$ , puxa o bloco até que ele para momentaneamente. Não há atrito. Quando a posição de parada é atingida, determine:

- a) (1,0) a posição do bloco;
- b) (1,0) o trabalho realizado pela força  $F$ ;
- c) (1,0) o trabalho realizado pela força elástica.



**03. (3,0 pontos)** Uma barra delgada de comprimento  $L$  e massa  $M$ , uniformemente distribuída, pode girar sem atrito em torno de um eixo que é perpendicular ao plano  $xy$ , conforme ilustra a figura a seguir. A barra está inicialmente em repouso em um ângulo inicial  $\theta = 30^\circ$  com relação à horizontal onde a gravidade local é constante e igual a  $\vec{g} = -g\hat{y}$ .

- a) (1,0) Escreva as coordenadas do centro de massa da barra, ou seja,  $x_{CM}$  e  $y_{CM}$ .
- b) (1,0) Calcule o momento de inércia da barra em relação ao eixo de rotação.
- c) (1,0) Se a barra for liberada a partir do repouso, calcule o módulo de sua velocidade angular quando ela passar pela posição horizontal.



## Física 1 - 2014.2

EXAME FINAL

TURMA NT

RESOLUÇÃO

$$\#01 \quad x(t) = 3t^2 - 2t^3$$

$$2) \quad v(t) = 6t - 6t^2$$

$$v(2) = 12 - 24 \Rightarrow \boxed{|\vec{v}(2)| = 12 \text{ m/s}}$$

$$b) \quad a(t) = 6 - 12t = 0$$

$$\boxed{t = 1/2 \text{ s}}$$

$$c) \quad \vec{F} = m\vec{a}, \quad a(2) = 6 - 24 = -18$$

$$|\vec{F}| = 2 \cdot |-18| \Rightarrow \boxed{|\vec{F}| = 36 \text{ N}}$$

$$d) \quad \frac{dx}{dt} = 0 \Rightarrow v = 0 \Rightarrow 6t(1-t) = 0$$

$$\boxed{t = 1 \text{ s}}$$

$$\#02. \quad 2) \quad \Delta K = W = W_{el} + W_F$$

$$\Delta K = 0 \Rightarrow W_{el} = -W_F$$

$$-\frac{kx_f^2}{2} = -F \cdot x_f$$

$$x_f = \frac{2F}{k}$$

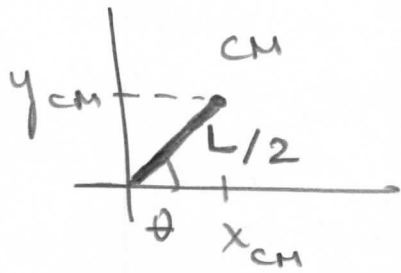
$$b) \quad W_F = F x_f = F \cdot \frac{2F}{k} \rightarrow W_F = \frac{2F^2}{k}$$

$$c) \quad W_{el} = -\frac{kx_f^2}{2} + \frac{kx_i^2}{2} = -W_F$$

$$W_{el} = -\frac{2F^2}{k}$$

03

# 03. 1) Está no centro da barra:



$$x_{CM} = \frac{L}{2} \cos \theta$$

$$y_{CM} = \frac{L}{2} \sin \theta$$

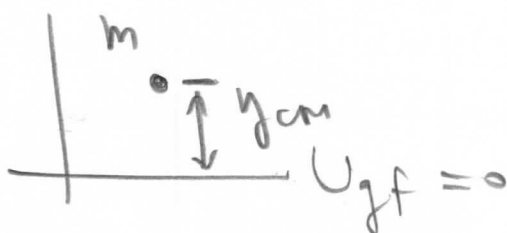
$$x_{CM} = \frac{L}{2} \cdot \frac{\sqrt{3}}{2} \Rightarrow \boxed{x_{CM} = \frac{L\sqrt{3}}{4}}$$

$$y_{CM} = \frac{L}{2} \cdot \frac{1}{2} \Rightarrow \boxed{y_{CM} = \frac{L}{4}}$$

$$b) I_E = I_{CM} + m \left( \frac{L}{2} \right)^2 = \frac{mL^2}{12} + \frac{mL^2}{4}$$

$$\boxed{I_E = \frac{mL^2}{3}}$$

$$c) \Delta K + \Delta U_g = 0 \Rightarrow K_f + U_{gf} = K_i + U_{gi}$$



04

$$\frac{I_E \omega^2}{2} + 0 = 0 + mgy_{cm} = mg \frac{L}{4}$$

$$\omega^2 = \frac{2mgL}{4I_E} = \frac{mgL}{2 \frac{mL^2}{3}}$$

$$\omega = \sqrt{\frac{3}{2} g/L}$$