

Universidade de Pernambuco
Escola Politécnica de Pernambuco
11 de dezembro de 2015
Física 1 - 2º Semestre 2015 – Exame Final

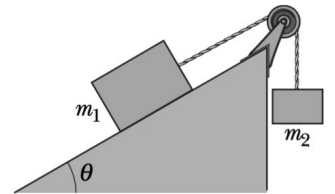
Nome: _____

ATENÇÃO:

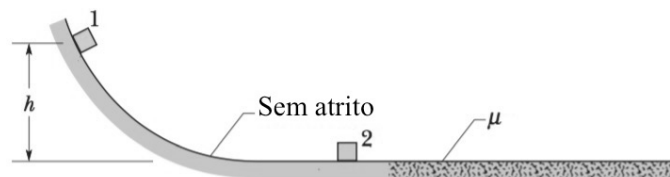
Soluções sem os respectivos desenvolvimentos, claramente explicitados, NÃO SERÃO CONSIDERADAS. Todas as equações estão em unidades do Sistema Internacional de Unidades (SI). Nos problemas de resolução numérica considere $g = 10 \text{ m/s}^2$.

01. (4,0 pontos) Um bloco de massa $m_1 = 2m$ está posicionado em um plano inclinado sem atrito. Ele está conectado por uma corda de massa desprezível a um bloco 2 de massa $m_2 = m$. A polia possui massa desprezível e o sistema é abandonado do repouso em $t = 0$, determine para $t \neq 0$:

- a) (1,0) o diagrama de corpo isolado de cada bloco;
- b) (1,0) o módulo da aceleração do sistema;
- c) (1,0) a distância percorrida pelo bloco 1 durante um tempo t ;
- d) (1,0) o trabalho da força de tração do fio durante um tempo t .

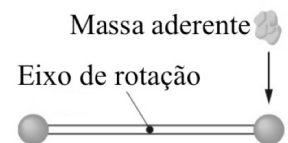


02. (3,0 pontos) Um bloco de massa $m_1 = 1 \text{ kg}$ é abandonado do repouso de uma altura $h = 0,8 \text{ m}$ em uma região curva e sem atrito, conforme ilustra a figura. Logo após a colisão, o bloco 2 que possui massa $m_2 = 3 \text{ kg}$, que estava em repouso, desliza por uma distância máxima desconhecida na região com coeficiente de atrito cinético igual a $\mu = 0,25$. Sabendo que a colisão foi completamente inelástica, calcule:



- a) (1,0) a velocidade do bloco 1 imediatamente antes da colisão;
- b) (1,0) as velocidades dos blocos imediatamente após a colisão;
- c) (1,0) a distância máxima percorrida pelos blocos na região com atrito.

03. (3,0 pontos) A figura a seguir mostra duas pequenas esferas de massa m presas na extremidade de uma barra de comprimento L e massa $M = 4m$. O sistema pode girar em sem atrito em torno do eixo de rotação, que é perpendicular ao plano da figura. O sistema está inicialmente em repouso na posição horizontal em uma região onde a gravidade local tem módulo g , constante, e aponta verticalmente para baixo. Uma massa aderente, de massa m , é arremessada na extremidade do sistema, atingindo a esfera direita com velocidade vertical de módulo v_0 . Sabendo que após a colisão a massa aderente se une à esfera, determine:



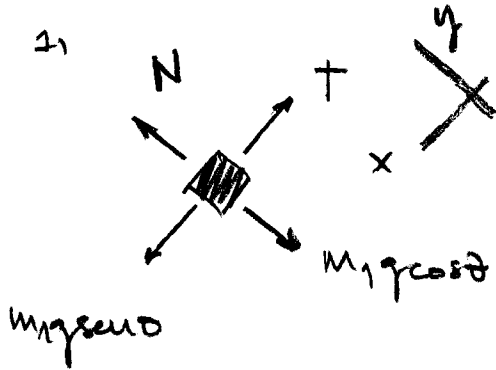
- a) (1,0) o momento de inércia de rotação do sistema, composto de esferas, barra e massa aderente, em torno do eixo de rotação;
- b) (1,0) a velocidade angular do sistema imediatamente após a colisão;
- c) (1,0) a velocidade angular do sistema quando ele atinge a posição vertical pela primeira vez.

Física 1 - 2015.2

EXAME FINAL

RESOLUÇÃO

#01. a)



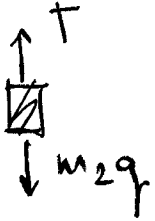
$$\hat{x}: m_1 g \sin \theta - T = m_1 a$$

$$2m g \sin \theta - T = 2m a \quad (\text{I})$$

$$\hat{y}: N = m_1 g \cos \theta$$

$$N = 2m g \cos \theta \quad (\text{II})$$

y' ↑



$$\hat{y}': T - m_2 g = m_2 a$$

$$T - mg = ma \quad (\text{III})$$

b) (I) + (III): $2m g \sin \theta - mg = 3m a$

$$a = g/3 (2 \sin \theta - 1)$$

c) Como $a = \text{cte} \Rightarrow x_1 = x_{s1} + v_{x1} t + \frac{at^2}{2}$

$$\Delta x_1 = \frac{g (2 \sin \theta - 1)}{6} t^2$$

d) $W_T = -T \cdot \Delta x_1$, $T = \text{cte}$

$$T = mg + ma = mg - \frac{mg}{3} + \frac{2mg \sin \theta}{3}$$

$$T = \frac{2}{3} mg (1 + \sin \theta), \quad W_T = -\frac{2}{3} mg^2 (1 + \sin \theta) (2 \sin \theta - 1) \frac{t^2}{6}$$

$$W_T = -\frac{1}{9} mg^2 (\sin \theta + 2 \sin^2 \theta - 1) g^2 t^2$$

#02. a) $\Delta E_{mec,1} = 0 \Rightarrow m_1 gh = \frac{m_1 v_1^2}{2}$

$$v_1 = \sqrt{2gh} \Rightarrow v_1 = \sqrt{16} \Rightarrow v_1 = 4 \text{ m/s}$$

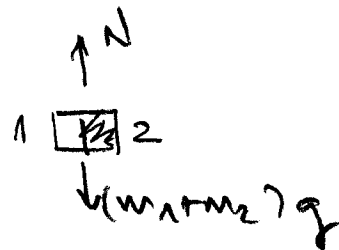
b) $m_1 v_1 = m_1 V + m_2 V \Rightarrow V = \frac{m_1}{m_1 + m_2} v_1$

$$V = \frac{1}{4} v_1 \Rightarrow V = 1 \text{ m/s}$$

c) $\Delta E = 0 \Rightarrow \Delta E_{mec} = W_{fct}$

$$0 - \frac{(m_1 + m_2) V^2}{2} = -\mu (m_1 + m_2) g d$$

$$d = \frac{V^2}{2\mu g} = \frac{1}{2 \cdot 0.1 / 4} \Rightarrow d = 0.2 \text{ m}$$

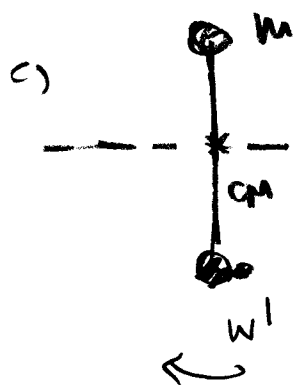


$$\#03. \quad a) \quad I = \frac{ML^2}{12} + mL^2 + \frac{mL^2}{4} + \frac{mL^2}{4}$$

$$I = mL^2 \left(\frac{4}{12} + \frac{3}{4} \right) = \frac{mL^2}{12} (4+9) = \boxed{\frac{13}{12} mL^2}$$

$$b) \quad \vec{L}_i = \vec{L}_f \Rightarrow -m v_0 \frac{L}{2} (\hat{x}) = I \omega (-\hat{x})$$

$$\cancel{m} v_0 \frac{\cancel{L}}{2} = \frac{13}{12} \cancel{m} L^2 \omega \Rightarrow \boxed{\omega = \frac{6}{13} v_0 / L}$$



$$\Delta E_{\text{mec}} = 0 \Rightarrow K_i + U_{g_i} = K_f + U_{g_f}$$

$$\frac{I \omega^2}{2} = \frac{I \omega'^2}{2} + \cancel{mgL/2} - \cancel{mgL/2} - mgL/2$$

$$\omega'^2 = \omega^2 + 2mgL/I = \omega^2 + 2mgL / \frac{13}{12} mL^2$$

$$\omega'^2 = \left(\frac{6}{13} \frac{v_0}{L} \right)^2 + \frac{24}{13} g/L$$

$$\boxed{\omega' = \sqrt{\frac{1}{13L} \left(\frac{36}{13L} v_0^2 + 24g \right)}}$$